

ابحث عن الأشياء الموضحة صورها ثم قيس أطوالها مستعمل وحدة قياس مناسبة .






مكعب



مكعب



ابحث عن الأشياء الموجودة صورها ثم قيس أطوالها مستعمل وحدة قياس طولها سنتمتر واحد .

الشيء	وَحْدَةُ الْقِيَاسِ	الْقِيَاسُ
٤ 	 سَنْتِمِترَاتٍ تَقْرِيبًا
٥ 	 سَنْتِمِترَاتٍ تَقْرِيبًا
٦ 	 سَنْتِمِترَاتٍ تَقْرِيبًا
٧ 	 سَنْتِمِترَاتٍ تَقْرِيبًا
٨ 	 سَنْتِمِترَاتٍ تَقْرِيبًا